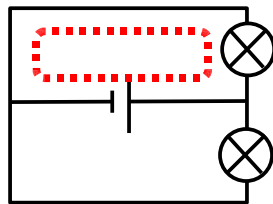


## Correction exercice 1

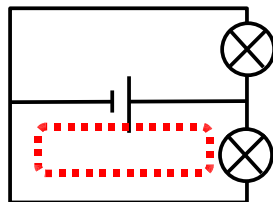
### Cas n°5

#### Analyse du schéma « redressé »

L'objectif est de déterminer le nombre de boucles que contient ce schéma.

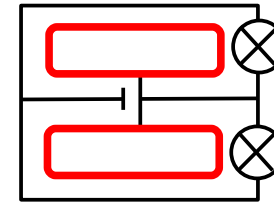


Voici la première boucle.



Voici la seconde boucle.

### Conclusion



On visualise bien les deux boucles (en rouge sur le schéma). On en déduit qu'il s'agit d'un circuit en dérivation.