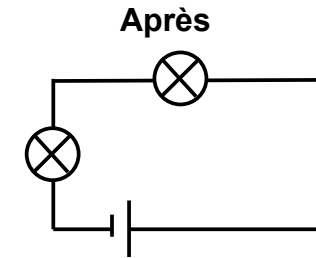
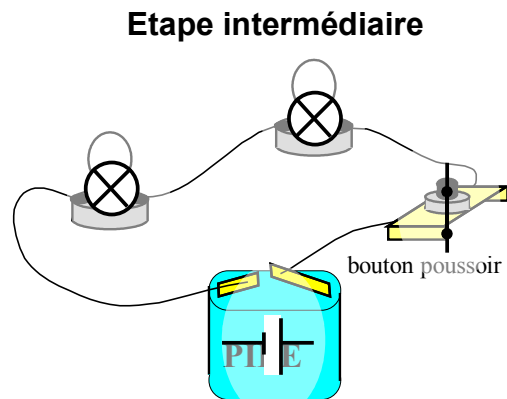
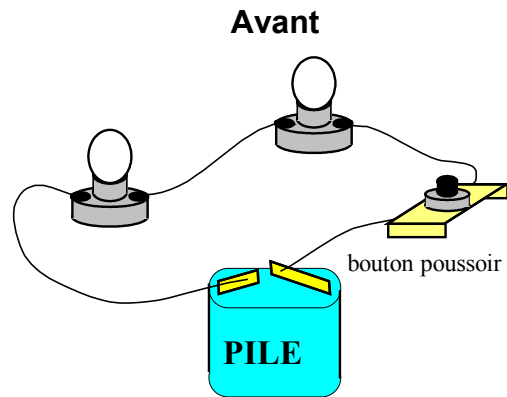


Correction exercice 1

Cas n°6

Il faut essayer de transformer le dessin en schéma électrique normalisé.



Il est alors facile de constater que le circuit ne présente qu'une seule boucle. On en déduit qu'il s'agit d'un circuit en série (car il ne comporte qu'une seule boucle).